

**2º ano****MATEMÁTICA • Ensino Fundamental • Anos Iniciais**

Unidades: 912 Sul, 910 Norte, 606 L2 Norte e Águas Claras

Ano: 2º

**Sua majestade, O LEÃO...**

O leão é um bicho que impõe respeito. É forte, ágil, grande e muito preguiçoso. Os leões vivem em algumas partes da África, da Ásia e da Índia. Não são caçadores muito habilidosos por causa do tamanho. O leão é carnívoro: caça zebras, antílopes, búfalos, javalis e gnus. As maiores caçadoras são as leas. Os leões têm o papel de proteger as fêmeas e os filhotes de outros leões e dos seus maiores rivais da África: as hienas.

O leão pode ser considerado um “rei do sono”, já que dorme entre 18 a 24 horas por dia!



1. A massa, ou o “peso”, de um leão pode chegar a 250 quilogramas; o da leoa, a 180 quilogramas.

a) Preencha cada lacuna abaixo.

- O número 250 é \_\_\_\_\_.  
(par/ímpar)
- O número 250 tem \_\_\_\_\_ dezenas, ao todo.
- Adicionando 3 centenas ao número 250, obtemos o número \_\_\_\_\_.
- No número 180, o algarismo 1 pertence à ordem das \_\_\_\_\_, por isso ele vale \_\_\_\_\_ unidades.
- Ao retirar 80 unidades do número 180, obtemos o número \_\_\_\_\_.
- Se tirarmos 2 centenas do número 250, obteremos o número \_\_\_\_\_.


b) Decomponha o número 250.

c) O número 180 está mais próximo de 100 ou de 200? \_\_\_\_\_

d) Escreva três números diferentes, de três ordens, utilizando todos os algarismos do número 250.

e) Escreva, por extenso, o antecessor imediato do número 180.

\_\_\_\_\_



2. Se um leão pesa 226 quilogramas e uma leoa, 153 quilogramas, qual é o valor, em quilogramas, dos dois juntos?

Cálculo:

Resposta completa:

---




---



---

3. Imagine que um leão comece a dormir às 16h30 e o seu sono tenha a duração de 3 horas.

Marque, desenhando ponteiros de horas e de minutos, o horário em que o leão acordará.



4. No zoológico de Brasília, os leões são alimentados a cada 4 horas. Sabendo que a primeira refeição do dia 12 de outubro foi às 6 horas, quais foram os horários das refeições seguintes nesse mesmo dia?

Marque, nos relógios abaixo, desenhando ponteiros de horas e de minutos, o horário das refeições seguintes.

1ª refeição	2ª refeição	3ª refeição	4ª refeição

5. Um leão de grande porte come 34 quilogramas de carne por dia. Quantos quilogramas de carne ele come em 2 dias?

Cálculo:

Resposta completa:

---



---



---

6. O tempo de gestação de um leão é, em média, de 4 meses.

Uma leoa iniciou a gestação no mês de agosto. Em que mês nascerá seu filhote?

\_\_\_\_\_.

b) Escreva em qual mês o pequeno leão completará seis meses de vida.

\_\_\_\_\_.

7. Os leões machos medem de 1,72 metro a 2,50 metros de comprimento. Já as fêmeas, de 1,58 a 1,92 metro. O comprimento de seu rabo varia de 60 a 100 cm. Em relação às informações, coloque C para as que julgar CERTAS e E para as ERRADAS.

( ) Podemos dizer que os leões machos podem medir até 250 centímetros.

( ) O comprimento do rabo de um leão pode chegar até 1 metro.

( ) As leoas medem menos que 1,58 metro.

8. Alex é um leão muito simpático. Ele chegou ao zoológico do Central Park de Nova York no dia 12 de outubro de 2020.

Observe o calendário abaixo para resolver os itens propostos a seguir.

OUTUBRO 2020						
DOM	SEG	TER	QUA	QUI	SEX	SÁB
				1	2	3
4	5	6	7	8	9	10
11	12	13	14	15	16	17
18	19	20	21	22	23	24
25	26	27	28	29	30	31


calendar-page.com



a) Em que dia da semana Alex chegou ao zoológico? \_\_\_\_\_.

b) Em que dia da semana o mês de outubro começou? \_\_\_\_\_.

c) Quantas semanas completas houve no mês em que Alex chegou ao zoológico? \_\_\_\_\_.



9) Calcule o dobro e o triplo dos números abaixo:

NÚMERO	DOBRO	TRIPLO
25		
32		
41		
57		

***“A infância é o tempo de maior criatividade na vida de um ser humano.”***

*Jean Piaget*