

2º ano



Ciências • Ensino Fundamental • Anos Iniciais

Unidades: 912 Sul, 910 Norte, 606 L2 Norte e Águas Claras

Ano: 2º

HORA DE REVISAR!

Brincar com a sombra é sempre muito divertido!



1. Observando a imagem, o que foi necessário para que a sombra fosse projetada na parede?

2. A luz projetada para a formação da sombra é uma luz:

() Natural.

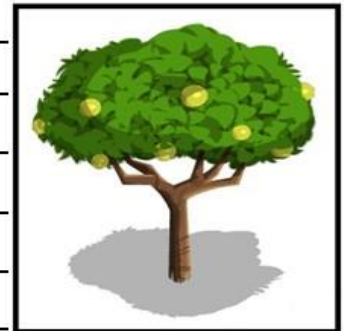
() Artificial.

3. Chico Bento vive no campo, onde é possível ver o céu, quase sempre, estrelado. Explique por que isso acontece.

4. O excesso de luz artificial pode causar uma poluição luminosa. Esse tipo de poluição está presente:

- a) () Nas fazendas.
- b) () Nas grandes cidades.
- c) () Somente em casa.
- d) () No campo.

5. Chico Bento adora brincar no quintal, à sombra de uma goiabeira. Com o passar do dia, a sombra da goiabeira vai mudando. Por que a sombra da goiabeira muda de lugar e de tamanho?



6. As férias começaram e Chico Bento vai brincar no parque com seus amigos. Na hora de escolher a roupa, ele ficou em dúvida sobre qual dos dois conjuntos de roupa, mostrados na figura, deveria usar.






Conjunto 1



Conjunto 2

- Qual dos conjuntos de roupa Chico Bento deve usar para não sentir muito calor? Por quê?

7. Observe os desenhos que representam a previsão do tempo e escreva como está o dia em cada cidade.

BRASÍLIA		
GRAMADO		
RIO DE JANEIRO		
BAHIA		

Você brilhou!

